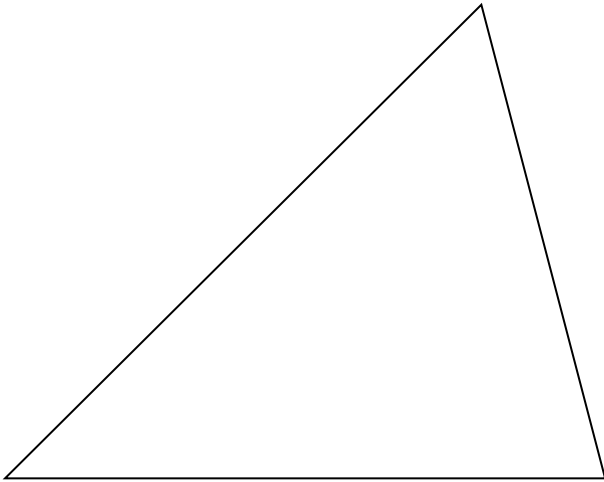


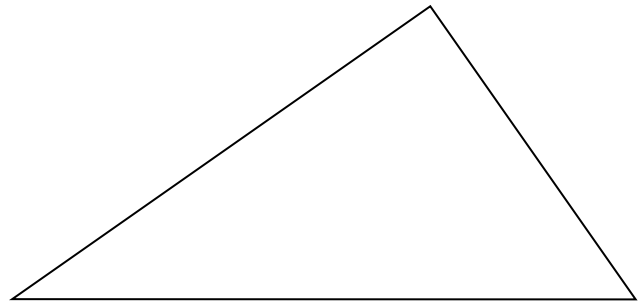
Dreiecksarten

Beschrifte die Eckpunkte (A, B, C), Seiten (a, b, c) und Winkel (α , β , γ) der folgenden Dreiecke!

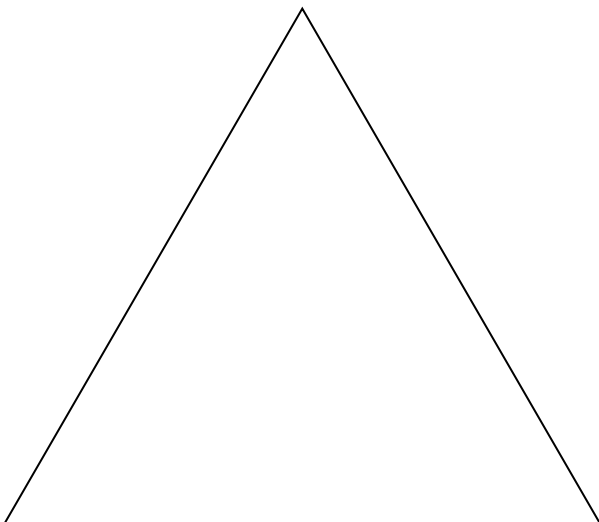
1) Allgemeines Dreieck:



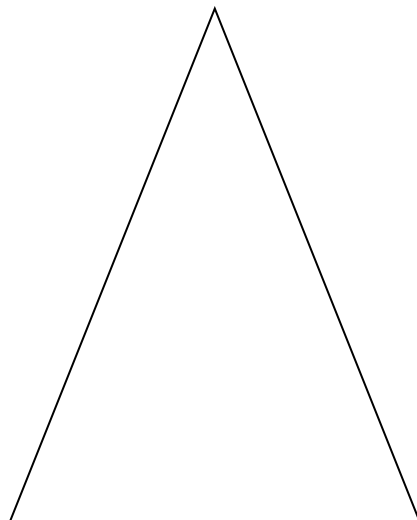
2) Rechtwinkeliges Dreieck:



3) Gleichseitiges Dreieck:



4) Gleichschenkeliges Dreieck:



Seiten: ____ = ____ = ____ Winkel: ____ = ____ = ____

Seiten: ____ = ____ Winkel: ____ = ____