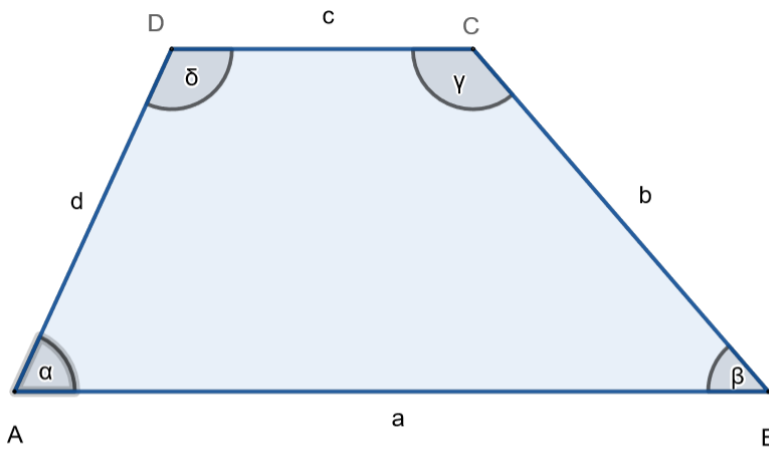


# Konstruieren von Trapezen

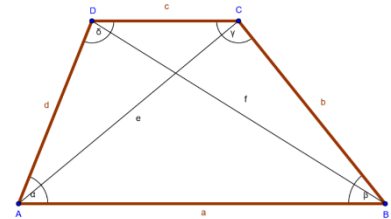
Lösungsblatt

Konstruiere ein Trapez, von dem du folgende Bestimmungsstücke kennst und mache auch eine Skizze:

$a = 10 \text{ cm}$  ,  $b = 6 \text{ cm}$  ,  $c = 4 \text{ cm}$  ,  $d = 5 \text{ cm}$



Skizze:

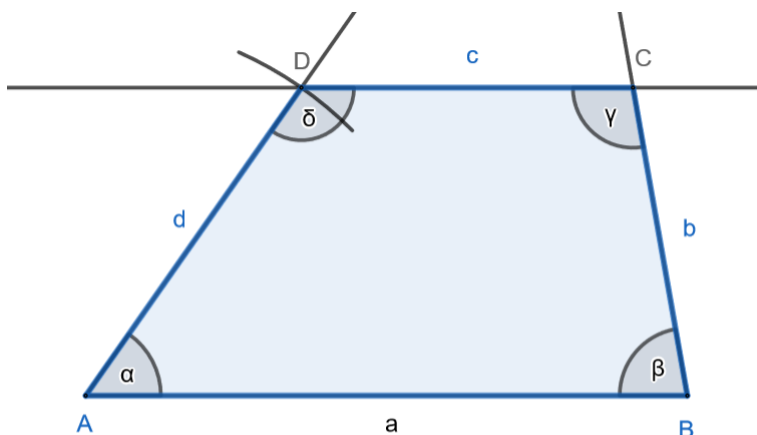


Anleitung:

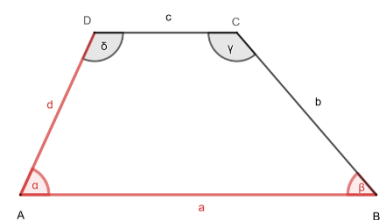


Konstruiere ein Trapez, von dem du folgende Bestimmungsstücke kennst und mache auch eine Skizze:

$a = 8 \text{ cm}$  ,  $d = 5 \text{ cm}$  ,  $\alpha = 55^\circ$  ,  $\beta = 80^\circ$



Skizze:



Anleitung:

