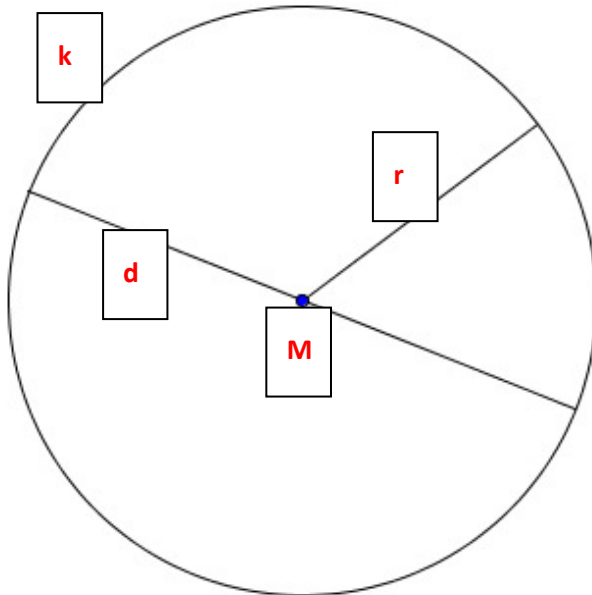


# Kreis

Grundlagen - Lösungen

## Bezeichnungen am Kreis:

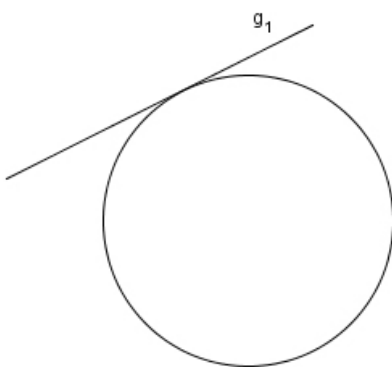
Beschrifte nebenstehende Bestimmungsstücke (M, r, d, k) richtig in der Abbildung und benenne sie auch:



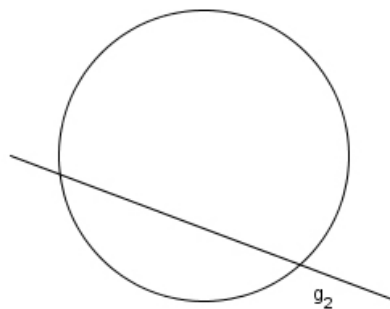
- M .....
- r .....
- d .....
- k .....

## Lagebeziehungen zwischen einem Kreis und einer Geraden:

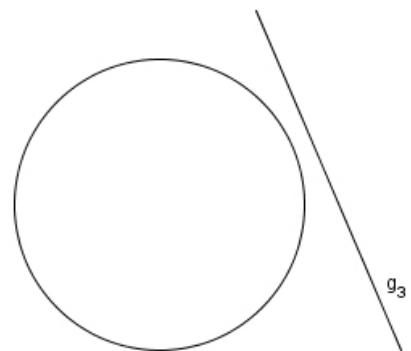
Welche Lagebeziehungen haben folgende Geraden zu den Kreisen?



$g_1$  ist **Tangente**



$g_2$  ist **Sekante**



$g_3$  ist **Passante**