

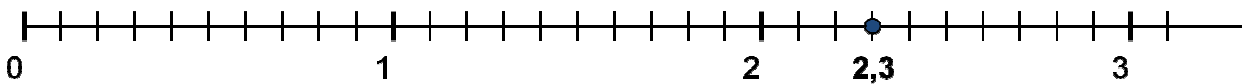

Darstellen auf dem Zahlenstrahl

Brüche und Dezimalzahlen

Übung 1:

Trage folgende Zahlen auf dem Zahlenstrahl ein:

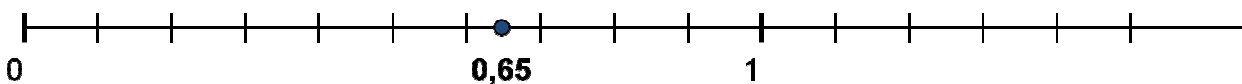
$$2,3 \quad 1,6 \quad 0,8 \quad \frac{4}{10} \quad 1\frac{8}{10} \quad 2\frac{7}{10}$$



Übung 2:

Trage folgende Zahlen auf dem Zahlenstrahl ein:

$$0,65 \quad 1,55 \quad 1,15 \quad \frac{95}{100} \quad 1\frac{45}{100} \quad 1\frac{20}{100}$$



Übung 3:

Schreibe zu den markierten Punkten auf dem Zahlenstrahl die Zahlen dazu!

Oberhalb: als Bruch

Unterhalb: als Dezimalzahl

